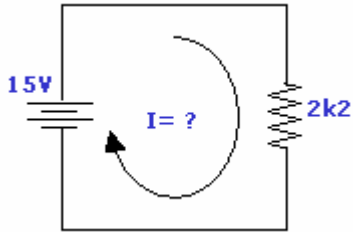


Lista de exercícios – Circuitos simples

Utilizando a Primeira Lei de Ohm, responda:

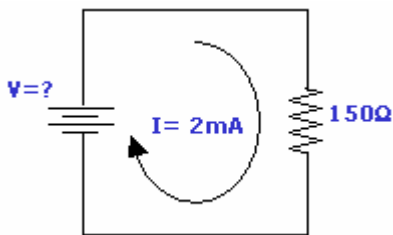
1 - Qual a corrente?

Solução:



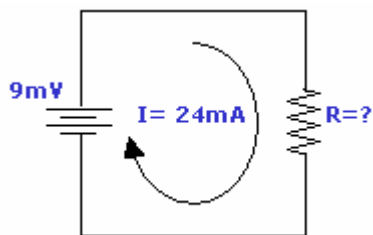
2 - Qual a tensão?

Solução:



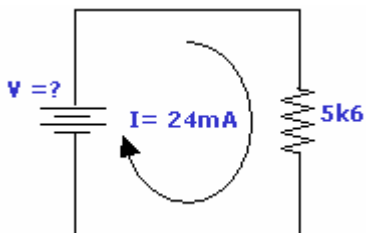
3 - Qual a resistência?

Solução:



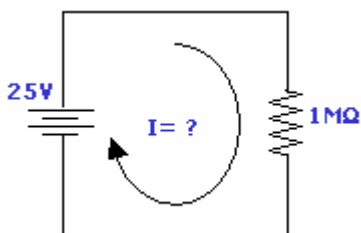
4 - Qual a tensão?

Solução:



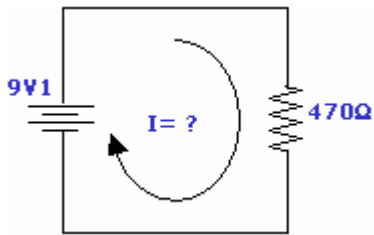
5 - Qual a corrente?

Solução:



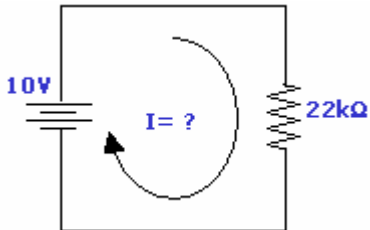
6 - Qual a corrente?

Solução:



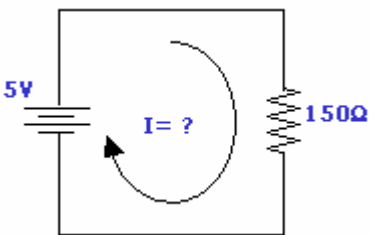
7 - Qual a corrente?

Solução:



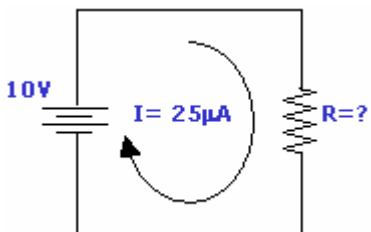
8 - Qual a corrente?

Solução:



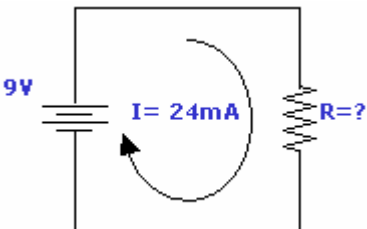
9 - Qual a resistência?

Solução:



10 - Qual a resistência?

Solução:



"Aquele que tudo adia, não deixará nada concluído, nem perfeito."- Demócrito.

Gabarito				
01 – 6,82mA	02 – 300mV	03 – 375 mΩ	04 – 134,4V	05 - 25μA
06 – 19,36mA	07 – 454,55μA	08 – 33,33mA	09 – 400kΩ	10 - 375Ω